

ଆସ ଆମେ ଖେଳିବା



ଆସ, ଏହି ଗାର ଉପରେ ଧାଡ଼ି ହୋଇ ଠିଆ ହେବା ।

ଜଣକ ପରେ ଜଣେ ଥରକେ ୯ଟି ଲେଖାଏଁ କାଟବାଟି ଗୋଲେଇ ଭିତରକୁ ପକାଇବା ।

ଭିତର (୧ମ) ଗୋଲେଇରେ ପଡ଼ିଥିବା ପ୍ରତ୍ୟେକ କାଟବାଟିର ମୂଲ୍ୟ ହେଉଛି ୧୦୦ ।

ତାକୁ ଲାଗିଥିବା ଦ୍ୱିତୀୟ ଗୋଲେଇରେ ପଡ଼ିଥିବା ପ୍ରତ୍ୟେକ କାଟବାଟିର ମୂଲ୍ୟ ହେଉଛି ୧୦ ।

ବାହାରକୁ ଥିବା ତୃତୀୟ ଗୋଲେଇରେ ରହିଥିବା ପ୍ରତ୍ୟେକ କାଟବାଟିର ମୂଲ୍ୟ ହେଉଛି ୧ ।

ପ୍ରଥମେ ରିମା ୯ଟି ବାଟି ଧରି ଗଢ଼େଇଲା ।

ଚିତ୍ର ଦେଖି କହ, କେଉଁ ଗୋଲେଇରେ କେତୋଟି ଲେଖାଏଁ କାଟବାଟି ରହିଲା ?

୧ମ ଗୋଲେଇ		୩ଟି ବାଟି = ୩ ଶହ = ୩୦୦
୨ୟ ଗୋଲେଇ		୧ଟି ବାଟି = ୧ ଦଶ = ୧୦
୩ୟ ଗୋଲେଇ		୪ଟି ବାଟି = ୪ ଏକ = ୪

$$୩ ଶହ + ୧ ଦଶ + ୪ ଏକ = ୩୦୦ + ୧୦ + ୪ = ୩୧୪$$

ତୁମେ ସେହିପରି ଖେଳ ଏବଂ ପ୍ରତ୍ୟେକ ପିଲା ବାଟି ଗଢ଼ାଇବା ପରେ କେଉଁ ସଂଖ୍ୟା ପାଇଲା, ତା ସାରଣୀରେ ଲେଖ ।

ନାମ	୧ମ ଗୋଲେଇ	୨ୟ ଗୋଲେଇ	୩ୟ ଗୋଲେଇ	ସଂଖ୍ୟା
ରିମା	୩	୧	୪	୩୧୪

- ଗୁଣ୍ଡୁଚି ମୁଷା ସେଠଗୁଡ଼ିକୁ ଗଣୁଥିଲା । ସେ କିପରି ଗଣୁଥିଲା ଲକ୍ଷ୍ୟ କର ।



ଚୁଟିଆ ମୁଷା ଗୋଟିଏ ସେଠ ପାଇଁ - $\triangle e$ ଚିତ୍ରକାଡ଼ ରଖିଲା ।
 ସେହିପରି ୨ ସେଠ ପାଇଁ $\triangle e \triangle e$ ଚିତ୍ରକାଡ଼ ବ୍ୟବହାର ହେବ ।

୧୦ଟି ସେଠ ହେବାରୁ, ପ୍ରତି ୧୦ ସେଠ ପାଇଁ $\square ୧୦$ ଚିତ୍ରକାଡ଼ ରଖିଲା ।

୧୦ଟି ସେଠ = $\square ୧୦$

୨୦ଟି ସେଠ = $\square ୧୦ \square ୧୦$



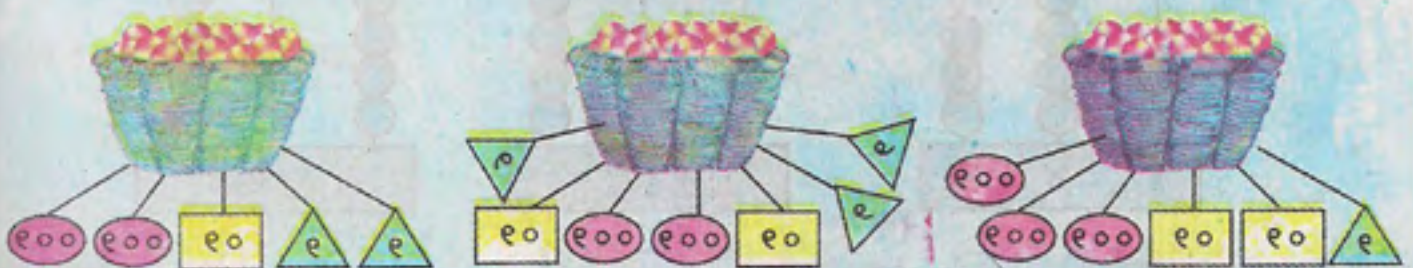
୬୦ଟି ସେଠ ଓ ୯୦ଟି ସେଠକୁ ଚିତ୍ରକାଡ଼ରେ କିପରି ପ୍ରକାଶ କରାଯିବ ଦେଖାଅ ।

$\square ୧୦ \square ୧୦ \square ୧୦ \square ୧୦ \square ୧୦ \square ୧୦ \square ୧୦ \square ୧୦ \square ୧୦ \square ୧୦ = \bigcirc ୧୦୦$

ଚୁଟିଆ ମୁଷା ୧୦୦ଟି ସେଠ ପାଇଁ $\bigcirc ୧୦୦$ ଚିତ୍ରକାଡ଼ ବ୍ୟବହାର କରୁଥିଲା ।

ଏବେ କହ, ଗୁଣ୍ଡୁଚିମୁଷା ରଖିଥିବା ସେଠକୁ ମୁଷା କେମିତି ଚିତ୍ରକାଡ଼ ଦ୍ୱାରା ଲେଖିବ ।

- ପ୍ରତି ଝୁଡ଼ିରେ ଥିବା ଆମକୁ ସଂଖ୍ୟାକାଡ଼ ଦ୍ୱାରା ସୂଚାଇ ସେହି କାଡ଼କୁ ଝୁଡ଼ିରେ ଝୁଲାଇ ଦିଆଯାଇଛି । କେଉଁ ଝୁଡ଼ିରେ କେତୋଟି ଆମ ଅଛି ଲେଖ ।



ଅଭ୍ୟାସ

୧. ତଳ ଘରଗୁଡ଼ିକୁ ପୂରଣ କର ।

$୯୦୨ =$		ଶହ	+		ଦଶ	+		ଏକ
$୫୭୨ =$		ଶହ	+		ଦଶ	+		ଏକ
$୬୧୦ =$		ଶହ	+		ଦଶ	+		ଏକ
$୮୯ =$		ଶହ	+		ଦଶ	+		ଏକ
$୮୮୮ =$		ଶହ	+		ଦଶ	+		ଏକ
$୩୨୭ =$		ଶହ	+		ଦଶ	+		ଏକ

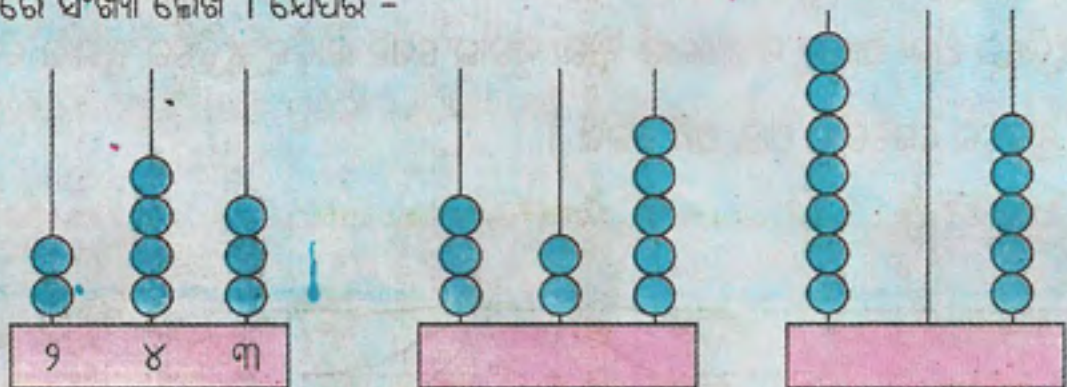
୨. ଲିଖ୍ୟ କର -

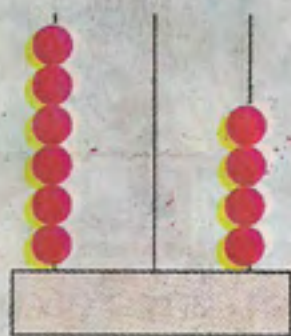
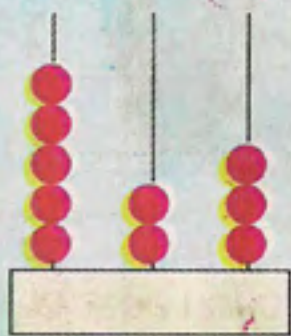
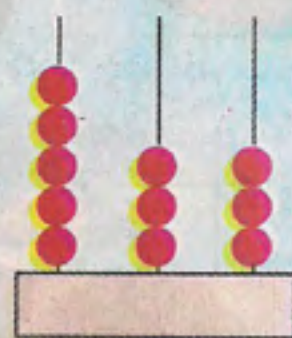

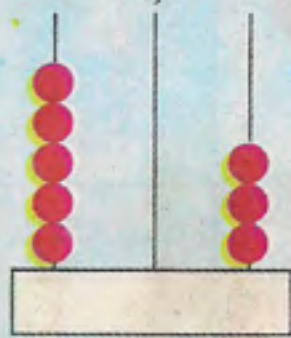
$$\begin{aligned}
 ୬୨୫ &= ୬ \text{ ଶହ} + ୨ \text{ ଦଶ} + ୫ \text{ ଏକ} \\
 &= ୬୦୦ + ୨୦ + ୫
 \end{aligned}$$

ଆସ, ତଳେ ଥିବା ଖାଲି ଘରଗୁଡ଼ିକ ପୂରଣ କରିବା ।


$$\begin{aligned}
 ୩୭୭ &= ୩୦୦ + ୭୦ + ୭ \\
 ୪୨୭ &= \boxed{} + ୨୦ + \boxed{} \\
 ୬୦୩ &= ୬୦୦ + \boxed{} + \boxed{} \\
 ୫୨୦ &= \boxed{} + ୨୦ + \boxed{} \\
 ୩୭୭ &= ୩୦୦ + \boxed{} + ୭ \\
 ୩୦୦ &= \boxed{} + \boxed{} + \boxed{}
 \end{aligned}$$

୩. ଖାଲି ସ୍ଥାନରେ ସଂଖ୍ୟା ଲେଖ । ଯେପରି -





୪. ତଳେ ସଂଖ୍ୟା ଲେଖା ଯାଇଛି । କେଉଁ ଘରେ କେତୋଟି ଗୋଲି ରହିବ ଚିତ୍ରକରି ଦେଖାଅ ।
 ଯେପରି -



୫. ଉତ୍ତର ଲେଖ ।

୩୧୪ରେ ୧ର ସ୍ଥାନୀୟମାନ = ୧୦

୨୩୫ରେ ୫ର ସ୍ଥାନୀୟମାନ =

୭୪୪ରେ ୭ର ସ୍ଥାନୀୟମାନ =

୨୧୦ରେ ୨ର ସ୍ଥାନୀୟମାନ =

୭୦୪ରେ ୦ର ସ୍ଥାନୀୟମାନ =

୮୪୮ରେ ୪ର ସ୍ଥାନୀୟମାନ =